

UDHEZIMET PËR TESTIN E NJOHURIVE TË PËRGJITHSHME DHE TESTIN E INTELIGJENCËS PËR USHTAR

1. Testi i inteligjencës është hapi i dytë i testimit për rekrutim në FSK, cili realizohet në të njëjtën kohë me testin e njohurive të përgjithshme.
2. Testi i njohurive të përgjithshme është i ndërtuar me 30 - 50 pyetje.
3. Testi i inteligjencës është i ndërtuar me 30 - 50 pyetje.
4. Testi në total ka 100 pikë dhe kandidati duhet të arrijë minimum 40 pikë për t'u kualifikuar.
5. Nëse FSK-ja siguron pajisje, vlerësimi i çdo kandidati dhe kualifikimi i tij bëhet në mënyrë automatike nëpërmjet sistemit kompjuterik.
6. Vlera e testit të njohurive të përgjithshme në rezultatin e përgjithshëm është 25%.
7. Vlera e testit të inteligjencës në rezultatin e përgjithshëm është 25%.

Shënim: Pyetjet nga ky shembull i testit nuk do të përdoren në teste, por shërbejnë vetëm për orientimin e kandidateve se si do të duket testi.

Përgatitjet për test të njohurive të përgjithshme mund të bëhen përmes praktikimit me teste të Maturës që gjinden në web-faqen e Ministrisë së arsimit (<https://masht.rks-gov.net>) apo përmes sigurimit të testeve të maturës në mënyra tjera. Për testin e njohurive të përgjithshme mund të përdoren edhe librat e shkollave të mesme.

Qëllimi i testimit në testin të njohurive të përgjithshme:

Qëllimi i këtij testimi është që niveli i njohurive të përgjithshme të merret si kriter vlerësues për përzgjedhjen e kandidateve për rekrut sepse kandidatet me rezultate më të mira në testin e njohurive të përgjithshme i vlerësojmë si kandidat me të përshtatshëm për të mësuar detyrat tjera në FSK, sepse veq e kanë një nivel të njohurive.


Qëllimi i testimit në testin e Inteligjencës:

Qëllimi i këtij testimi është që niveli i inteligjencës të merret si kriter vlerësues për përzgjedhjen e kandidatëve për rekrut/kadet, sepse kandidatet me rezultate më të mira në Testin e Inteligjencës i vlerësojmë si kandidat me të përshtatshëm për të kryerë detyrat në FSK, duke marr parasysh se në FSK ka edhe detyra komplekse dhe ekipore.

Testi i njohurive të përgjithshme përmban pyetje të tilla që mundëson një garë të drejte të të gjithë nxënësve të shkollave të mesme, pavarësisht drejtimin e shkollës së mesme (gjimnaz, mjekësi, teknik, etj), por edhe pavarësisht komunën nga vijnë kandidatët. Pra testi përmban pyetje nga lëndët të cilat mësohen në të gjitha shkollat e mesëm në Kosovë, dhe nuk përmban pyetje nga ndonjë lëndë specifike që mësohet vetëm në një shkollë të caktuar.

Testi i Inteligjencës përmban pyetje të tilla që mundëson një garë të drejtë të të gjithë nxënësve të shkollave të mesme, pavarësisht drejtimin e shkollës së mesme (gjimnaz, mjekësi, teknik, etj.) por edhe pavarësisht komunën nga vijnë kandidatet.

Përgatitjet për test të inteligjencës duhet të bëhen përmes praktikimit të testeve Online (në google, IQ test) apo përmes sigurimit të testeve të inteligjencës në mënyra tjera.



Testi A

Forcat e Sigurisë së Kosovës - Testi Pranues

27 Dhjetor 2021

Kohëzgjatja: 80 minuta.

Ju lutem lexoni me kujdes pyetjet.

Secila pyetje me zgjidhje të shumëfishtë ka vetëm një përgjigje të saktë.

Përgjigjet e pasakta nuk e shtojnë dhe nuk e heqin asnjë pikë.

Question 1 Cili lum gjendet në Kosovë?

- (A) Vjosa
- (B) Erzeni
- (C) Shkumbini
- (D) Lepenci

Question 2 Kush e ka zbuluar poçin elektrik

- (A) Newtoni
- (B) Tesla
- (C) Edisoni
- (D) Faradey

Question 3 Si quhet zëri më i lartë tek burrat/djemtë këngëtarë

- (A) Tenor
- (B) Soprano
- (C) Bas
- (D) Alto

Question 4 Nëse këtë vit muaji shkurt i ka 29 ditë, atëherë pas sa vitesh do t'i ketë prapë 29 ditë?

- (A) Pas 8 viteve
- (B) Pas 6 viteve
- (C) Pas 2 viteve
- (D) Pas 4 viteve

Question 5 Cili është kontinenti më i madh

- (A) Amerika Latine
- (B) Azia
- (C) Afrika
- (D) Evropa

Question 6 Shtresa e cila na mbron nga rrezatimi ultraviollcë i Diellit quhet

- (A) Shtresa e troposferës
- (B) Shtresa e ozonit
- (C) Shtresa e heliosferës
- (D) Shtresa e stratosferës

Question 7 Cili prej këtyre hormoneve e rregullon nivelin e sheqerit në gjak?


- (A) Guanina
- (B) Epinefrina
- (C) Saharina
- (D) Insulina

Question 8 Sa ngjyra të dukshme i përmban spektri i dritës (ylberi)?

- (A) 8
- (B) 9
- (C) 7
- (D) 10

Question 9 Ku gjenden Piramidat?

- (A) Jordani
- (B) Egjipt
- (C) Kili
- (D) Kolumbi



- Question 10** Uji fillon të vlojë në temperaturën
- (A) 100 gradë (C) 90
(B) 210 (D) Më pak se 100 gradë celsius
- Question 11** Presidentët amerikanë mund të mbajnë deri në sa mandate
- (A) 4 (C) 2
(B) 1 (D) 3
- Question 12** Sa deputetë i ka Kuvendi i Republikës së Kosovës
- (A) 119 (C) 110
(B) 120 (D) 100
- Question 13** Cila prej këtyre kafshëve mund ta arrijë shpejtësinë më të lartë?
- (A) Leopardi (C) Delfini
(B) Antilopa (D) Ujku
- Question 14** Sa shkallë i ka një kënd në një trekëndësh barabrinjës
- (A) 90 (C) 30
(B) 45 (D) 60
- Question 15** Cili prej këtyre shteteve NUK gjendet në Ballkan?
- (A) Shqipëri (C) Kroaci
(B) Austri (D) Maqedoni
- Question 16** Nga cila prej këtyre varet shfaqja e baticës dhe zbaticës
- (A) Nga të gjitha këto (C) Nga rrotullimi i Tokës
(B) Nga Hëna (D) Nga Dielli
- Question 17** Ku gjendet Kulla e Eiffel-it?
- (A) Paris (C) Romë
(B) Athinë (D) Berlin
- Question 18** Gjatë luftës së dytë botërore, shtetet që kanë luftuar kundër aleatëve kanë qenë
- (A) Gjermania, Rusia dhe Kina (C) Gjermania, Japonia dhe Italia
(B) Gjermania, Rusia dhe Japonia (D) Gjermania, Italia dhe Rusia
- Question 19** Cili prej këtyre NUK është grup i gjakut
- (A) B (C) O
(B) A (D) S
- Question 20** Në cilin vit ka përfunduar lufta e dytë botërore?
- (A) 1945 (C) 1944
(B) 1946 (D) 1947



Question 21 Në cilën datë është shpallur pavarësia e Republikës së Kosovës?

- (A) 28 nëntor (C) 4 prill
(B) 17 shkurt (D) 14 shkurt

Question 22 Ketri i përket familjes së

- (A) Amfibëve (C) Brejtësve
(B) Primatëve (D) Zvarranikëve

Question 23 Cila prej këtyre kafshëve është vetëm mishngrënëse

- (A) Gjarpëri (C) Lopa
(B) Breshka (D) Gorilla

Question 24 Cila prej këtyre organeve nuk gjendet dy herë në trupin e njeriut, por vetëm një herë

- (A) Veshka (C) Gjëndrra mbiveshkore
(B) Mushkëria (D) Zemra

Question 25 Në cilin kontinent gjendet Brazili?

- (A) Në Evropë (C) Në Amerikën e Veriut
(B) Në Australi (D) Në Amerikën e Jugut

Question 26 Fjala "Beni, dërgoje pjatën në tavolinë!" është fjali

- (A) Dëftore (C) Urdhërore
(B) Përgjërore (D) Kallëzore

Question 27 Nga cila gjuhë e ka prejardhjen gjuha shqipe?

- (A) Ilirishtja (C) Trakishtja
(B) Anglishtja (D) Latinishtja

Question 28 Uji përbëhet nga

- (A) Azoti dhe magneziumi (C) Karboni dhe hidrogjeni
(B) Oksigjeni dhe azoti (D) Oksigjeni dhe hidrogjeni

Question 29 Cili është kryeqyteti i Norvegjisë

- (A) Stokholmi (C) Helsinki
(B) Riga (D) Oslo

Question 30 Në cilin vit janë futur forcat e NATO-s në Kosovë

- (A) 2000 (C) 2004
(B) 1998 (D) 1999

Question 31 Cila prej këtyre është më ndryshe sesa tjerat?

- (A) BCD (C) RST
(B) LMN (D) QRE



Question 32 Shikoni këtë seri: 3.3, 2.8, 2.3, 1.8, ... Çfarë numri duhet të vijë më pas?

- (A) 1.6 (C) 1.3
(B) 1.2 (D) 1.8

Question 33 Cila prej këtyre është më ndryshe sesa tjerat?

- (A) 246 (C) 123
(B) 468 (D) 024

Question 34 Agroni duhet t'i lëvizë 36 kuti të mëdha nga kamioni tek fabrika. Agroni mund t'i bartë vetëm katër kuti përnjëherë. Sa herë është dashur që Agroni të shkojë nga kamioni tek fabrika për t'i dërguar atje të gjitha kutitë?

- (A) 9 (C) 8
(B) 7 (D) 10

Question 35 Cila prej opsioneve vjen pas kësaj sekuence: 17, 35, 72, 147:

- (A) 294 (C) 198
(B) 892 (D) 298

Question 36 Cila nga këto fjalë është ndryshe sesa tjerat?

- (A) E barabartë (C) E drejtë
(B) E sinqertë (D) E anshme

Question 37 Cila prej këtyre nuk është si të tjerat?

- (A) Lopa (C) Delja
(B) Buallica (D) Kali

Question 38 Cila prej këtyre është më ndryshe sesa tjerat?

- (A) LLMMNNOO (C) BBCCDDEE
(B) RRSSTTUU (D) HHIIJJKK

Question 39 Gjej mesataren aritmetike të këtyre numrave: 1, 3, 5, 6, 2, 4


- (A) 3.5 (C) 2
(B) 4 (D) 3

Question 40 Në serinë e numrave të dhënë: XXIV, XX, ____, XII, VIII, cili nga numrat e më poshtëm duhet të vendoset në hapësirën boshe?

- (A) XIII (C) XVI
(B) XXII (D) IV

Question 41 Cila prej opsioneve vjen pas kësaj sekuence: 20, 25, 23, 28, 26, 31, 29, 34:

- (A) 33 (C) 35
(B) 32 (D) 34



Question 42 Andi vrapon 8 km nga jugu. Pastaj ai kthehet djathtas dhe vrapon për 4 km. Pastaj ai kthehet prapë djathtas the vrapon 8 km. Sa larg pikës së nisjes është tani Andi?

- (A) 8 km
- (B) 6 km
- (C) 12 km
- (D) 4 km

Question 43 Një kruese dhëmbësh është e dobishme. Gjërat e dobishme janë të vlefshme. Një kruese dhëmbësh është e vlefshme. Nëse dy deklaratat e para janë të vërteta, deklarata e tretë është

- (A) e pavërtetë
- (B) e pasigurt
- (C) e sigurt
- (D) e vërtetë

Question 44 Cila prej këtyre nuk është si të tjerat?

- (A) Peshkaqeni
- (B) Balena
- (C) Krokodili
- (D) Delfini

Question 45 Shikoni me kujdes modelin dhe pastaj zgjidhni cila palë e numrave që duhet të vjen më pas: 42 40 38 34 30 24 18

- (A) 16
- (B) 14
- (C) 12
- (D) 10

Question 46 Mara shkon më shpejt se Lili. Rita shkon më shpejt se Mara. Lili shkon më shpejt se Rita. Nëse dy deklaratat e para janë të vërteta, deklarata e tretë është

- (A) e dyshimtë
- (B) e vërtetë
- (C) e pasigurt
- (D) e pavërtetë

Question 47 Gjeni se çfarë vlere duhet të ketë variabla x në ekuacionin $3x - 4 = 17$

- (A) 6
- (B) 5
- (C) 7
- (D) 9

Question 48 Shikoni me kujdes këtë seri numrash: 1.5, 3, 4.5, 6, ... Çfarë numri duhet të vijë më pas?

- (A) 6.5
- (B) 8.5
- (C) 7.5
- (D) 7

Question 49 $1/5, 2/5, 3/5, 4/5, \dots$?

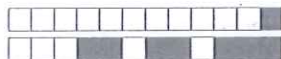
- (A) 1
- (B) $6/5$
- (C) $7/5$
- (D) $8/5$

Question 50 Nëse 6 persona e kryejnë një punë për 5 orë, atëherë për sa orë do ta kryejnë gjysmën e punës dy herë aq shumë persona?

- (A) 2.5 orë
- (B) 2 orë
- (C) 1.25 orë
- (D) 1.5 orë

Question 51 Cila nga opsionet e mëposhtme e prish bashkësinë (nuk është sikur të tjerat)?

- (A) Trekëndëshi
- (B) Kompasi
- (C) Vizorja
- (D) Lapsi



Question 52 Nëse një veturë përplaslet me një mur duke vozitur 40 km/h, shkaktohet një dëm i konsiderueshëm. Nëse e njëjta veturë përplaslet me një mur duke vozitur 80 km/h, shkaktohet

- (A) 4 herë më shumë dëm
(B) 8 herë më shumë dëm
(C) Shkaktohet i njëjti dëm
(D) 2 herë më shumë dëm

Question 53 Në serinë e numrave të dhënë: 80, 10, 70, 15, 60, ... cili nga numrat e më poshtëm duhet të vijë në radhë?

- (A) 50
(B) 25
(C) 20
(D) 30

Question 54 Cila fjalë nuk përkon me të tjerët?

- (A) i/e zellshme
(B) i/e fortë
(C) madhështore
(D) i/e boshatisur

Question 55 Cila prej opsioneve vjen pas kësaj sekuence: BDĚGj JLINjQ ?

- (A) GHLJ
(B) UVWX
(C) QRrST
(D) SThXZ

Question 56 Aeroplanët A, B, C dhe D filluan të fluturonin për në lindje. Pasi që fluturuan 125 km, aeroplanët A dhe D u kthyen djathtas përderisa aeroplanët B dhe C u kthyen majtas. Pas 115 km, aeroplanët B dhe C u kthyen majtas përderisa aeroplanët A dhe D u kthyen majtas. Në cilat drejtime po fluturojnë tani aeroplanët A, B, C, D?

- (A) Veri, Lindje, Veri, Lindje
(B) Perëndim, Lindje, Perëndim, Lindje
(C) Lindje, Perëndim, Perëndim, Lindje
(D) Perëndim, Lindje, Lindje, Perëndim

Question 57 Një laps dhe një mprehëse së bashku kushtojnë 1.50 Euro. Lapsi kushton 1 euro më shumë sesa mprehësja. Sa kushton mprehësja?

- (A) 1 Euro
(B) 1.05 Euro
(C) 35 Cent
(D) 50 Cent

Question 58 Cili numër duhet të vijë pas serisë: 7, 10, 8, 11, 9, 12, 10, 13, 11, ?

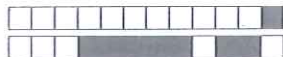
- (A) 16
(B) 14
(C) 12
(D) 13

Question 59 Artani tani është katër herë më i vjetër se arta. Pas 4 vitesh, Arta do të jetë për dy herë më e re sesa Artani. Sa vjetër më shumë se Arta do t'i ketë Artani pas tetë vjetësh?

- (A) 6 vjetër më shumë
(B) 10 vjetër më shumë
(C) 8 vjetër më shumë
(D) 4 vjetër më shumë

Question 60 Dy kaprollë i panë 7 ketra duke shkuar te lumi. Secili ketër i pa 2 hipopotamë duke shkuar tek lumi. Secili hipopotam e ka në dorë një breshkë. Sa kafshë janë duke shkuar te lumi?

- (A) 11
(B) 8
(C) 13
(D) 14



- | | | | | | | | | | | |
|---|---|---|---|---|---|---|---|---|---|---|
| 0 | 0 | 0 | 0 | 0 | 0 | 0 | 0 | 0 | 0 | 0 |
| 1 | 1 | 1 | 1 | 1 | 1 | 1 | 1 | 1 | 1 | 1 |
| 2 | 2 | 2 | 2 | 2 | 2 | 2 | 2 | 2 | 2 | 2 |
| 3 | 3 | 3 | 3 | 3 | 3 | 3 | 3 | 3 | 3 | 3 |
| 4 | 4 | 4 | 4 | 4 | 4 | 4 | 4 | 4 | 4 | 4 |
| 5 | 5 | 5 | 5 | 5 | 5 | 5 | 5 | 5 | 5 | 5 |
| 6 | 6 | 6 | 6 | 6 | 6 | 6 | 6 | 6 | 6 | 6 |
| 7 | 7 | 7 | 7 | 7 | 7 | 7 | 7 | 7 | 7 | 7 |
| 8 | 8 | 8 | 8 | 8 | 8 | 8 | 8 | 8 | 8 | 8 |
| 9 | 9 | 9 | 9 | 9 | - | 9 | 9 | 9 | 9 | 9 |

← ju lutem hijezoni kodin tuaj në kolonat majtas. Në kutinë më poshtë, ju lutem shkruani kodin tuaj, qendrën e testimit, grupin e testimit, si dhe nënshkrimin tuaj.

Kodi, Qendra, Grupi, Nënshkrimi:

.....

Fleta e përgjigjeve - Versioni Final:

Testi A

Përgjigjet duhet të shënohen vetëm në këtë fletë: të gjitha përgjigjet në fletët e tjera nuk do të merren parasysh.

Shënoni përgjigjet tuaja duke e mbushur plotësisht katrorin përkatës me ngjyrë të kaltër apo të zezë. Nëse përzgjidhet më shumë se një përgjigje apo nëse nuk përzgjidhet asnjë përgjigje, pyetja do të marrë 0 pikë.

- P 1 : (A) (B) (C) (D)
- P 2 : (A) (B) (C) (D)
- P 3 : (A) (B) (C) (D)
- P 4 : (A) (B) (C) (D)
- P 5 : (A) (B) (C) (D)
- P 6 : (A) (B) (C) (D)
- P 7 : (A) (B) (C) (D)
- P 8 : (A) (B) (C) (D)
- P 9 : (A) (B) (C) (D)
- P 10 : (A) (B) (C) (D)
- P 11 : (A) (B) (C) (D)
- P 12 : (A) (B) (C) (D)
- P 13 : (A) (B) (C) (D)
- P 14 : (A) (B) (C) (D)
- P 15 : (A) (B) (C) (D)
- P 16 : (A) (B) (C) (D)
- P 17 : (A) (B) (C) (D)
- P 18 : (A) (B) (C) (D)
- P 19 : (A) (B) (C) (D)
- P 20 : (A) (B) (C) (D)

- P 21 : (A) (B) (C) (D)
- P 22 : (A) (B) (C) (D)
- P 23 : (A) (B) (C) (D)
- P 24 : (A) (B) (C) (D)
- P 25 : (A) (B) (C) (D)
- P 26 : (A) (B) (C) (D)
- P 27 : (A) (B) (C) (D)
- P 28 : (A) (B) (C) (D)
- P 29 : (A) (B) (C) (D)
- P 30 : (A) (B) (C) (D)
- P 31 : (A) (B) (C) (D)
- P 32 : (A) (B) (C) (D)
- P 33 : (A) (B) (C) (D)
- P 34 : (A) (B) (C) (D)
- P 35 : (A) (B) (C) (D)
- P 36 : (A) (B) (C) (D)
- P 37 : (A) (B) (C) (D)
- P 38 : (A) (B) (C) (D)
- P 39 : (A) (B) (C) (D)
- P 40 : (A) (B) (C) (D)

- P 41 : (A) (B) (C) (D)
- P 42 : (A) (B) (C) (D)
- P 43 : (A) (B) (C) (D)
- P 44 : (A) (B) (C) (D)
- P 45 : (A) (B) (C) (D)
- P 46 : (A) (B) (C) (D)
- P 47 : (A) (B) (C) (D)
- P 48 : (A) (B) (C) (D)
- P 49 : (A) (B) (C) (D)
- P 50 : (A) (B) (C) (D)
- P 51 : (A) (B) (C) (D)
- P 52 : (A) (B) (C) (D)
- P 53 : (A) (B) (C) (D)
- P 54 : (A) (B) (C) (D)
- P 55 : (A) (B) (C) (D)
- P 56 : (A) (B) (C) (D)
- P 57 : (A) (B) (C) (D)
- P 58 : (A) (B) (C) (D)
- P 59 : (A) (B) (C) (D)
- P 60 : (A) (B) (C) (D)